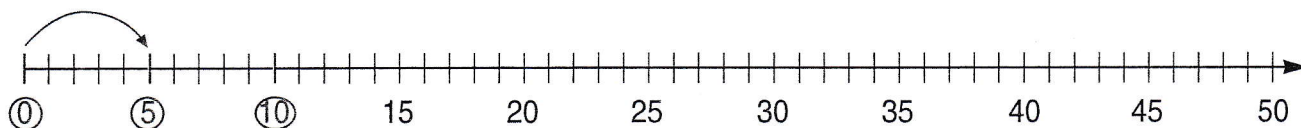


NÁSOBKY PĚTI

1. Doplň:

1 . 5	2 . 5								
5									

2. Vyznač násobky čísla 5 na číselné ose:



3. Vybarvi násobky čísla 5. Vypiš je na řádek (tam i zpět):


0	1	2	3	4	5	6	7	8	9	10	11	12	13	14	15	16	17	18	19	20	
21	22	23	24	25	26	27	28	29	30	31	32	33	34	35	36	37	38	39	40		
41	42	43	44	45	46	47	48	49	50	51	52	53	54	55	56	57	58	59	60		

0, 5 _____


50, 45 _____

4. Znázorni ve čtvercové síti. Hledej všechny příklady na násobení a dělení:

$6 \cdot 5 = \underline{\quad}$



$5 \cdot 5 = \underline{\quad}$



$7 \cdot 5 = \underline{\quad}$

